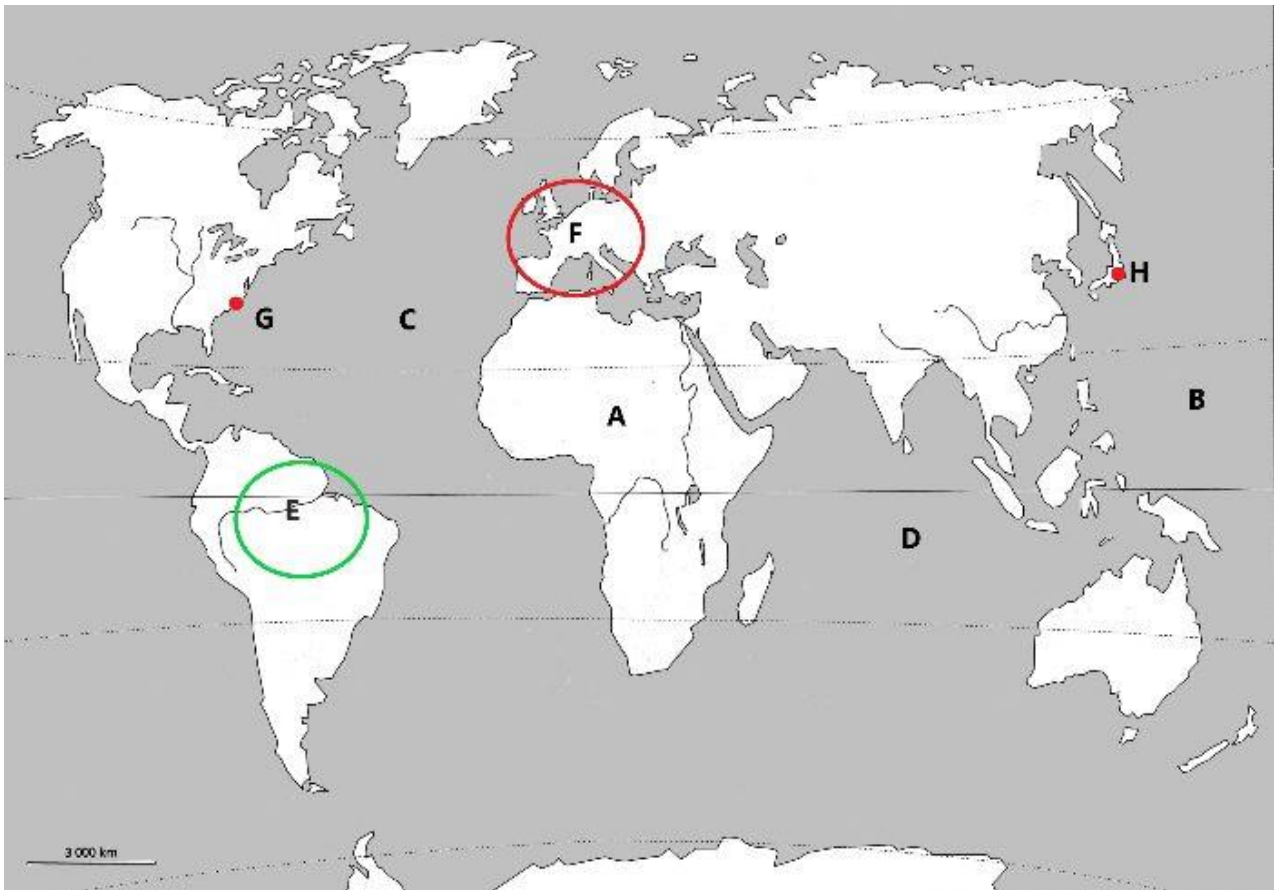


NOM : PRÉNOM : CLASSE :

SE REPÉRER DANS L'ESPACE 5^e

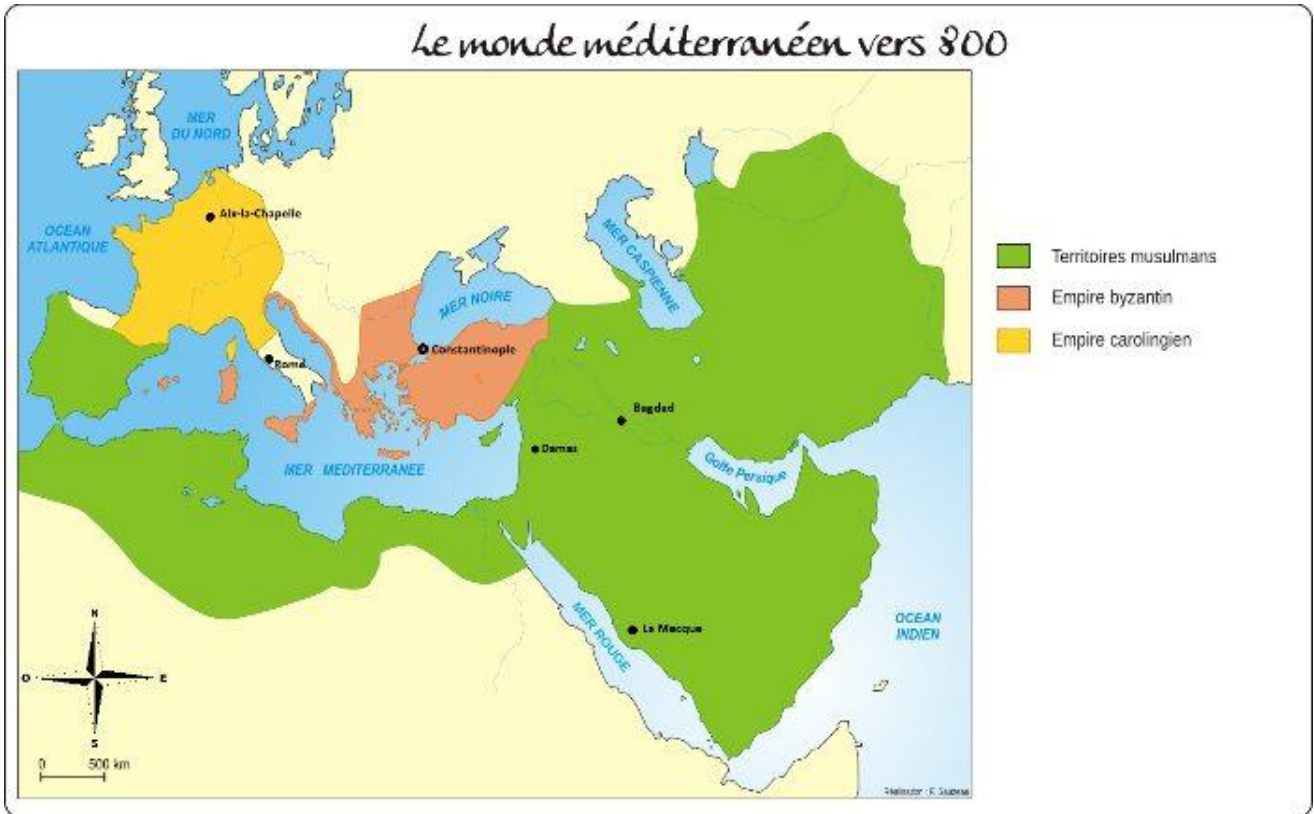
Exercice 1 : je me repère à l'échelle du monde

Associe les bonnes réponses entre elles.



| | |
|---|-----------------------------------|
| A | Océan Pacifique |
| B | Amazonie : zone de faible densité |
| C | Afrique |
| D | Tokyo |
| E | New York |
| F | Europe : foyer de population |
| G | Océan Indien |
| H | Océan Atlantique |

Exercice 2 : je me repère à l'échelle régionale



1- Je suis un voyageur qui part de La Mecque pour aller à Aix-la-Chapelle. Quels sont les continents, mers et empires que je vais devoir traverser ?

.....

.....

.....

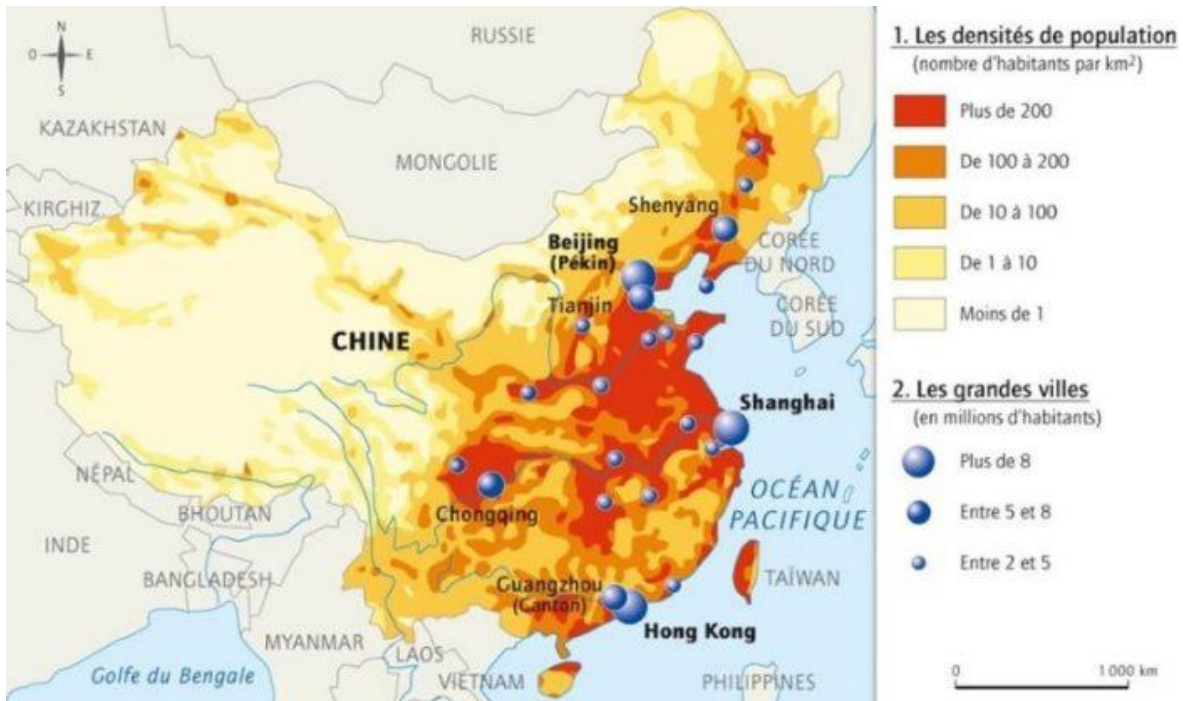
2- Si je suis à Rome...

- ...l'océan Indien est à l'Est.
- ...l'océan Indien est à l'Ouest.
- ...la Méditerranée est au Nord.
- ...la Méditerranée est au Sud.
- ...l'Empire byzantin est à l'Est.
- ...l'Empire byzantin est à l'Ouest.

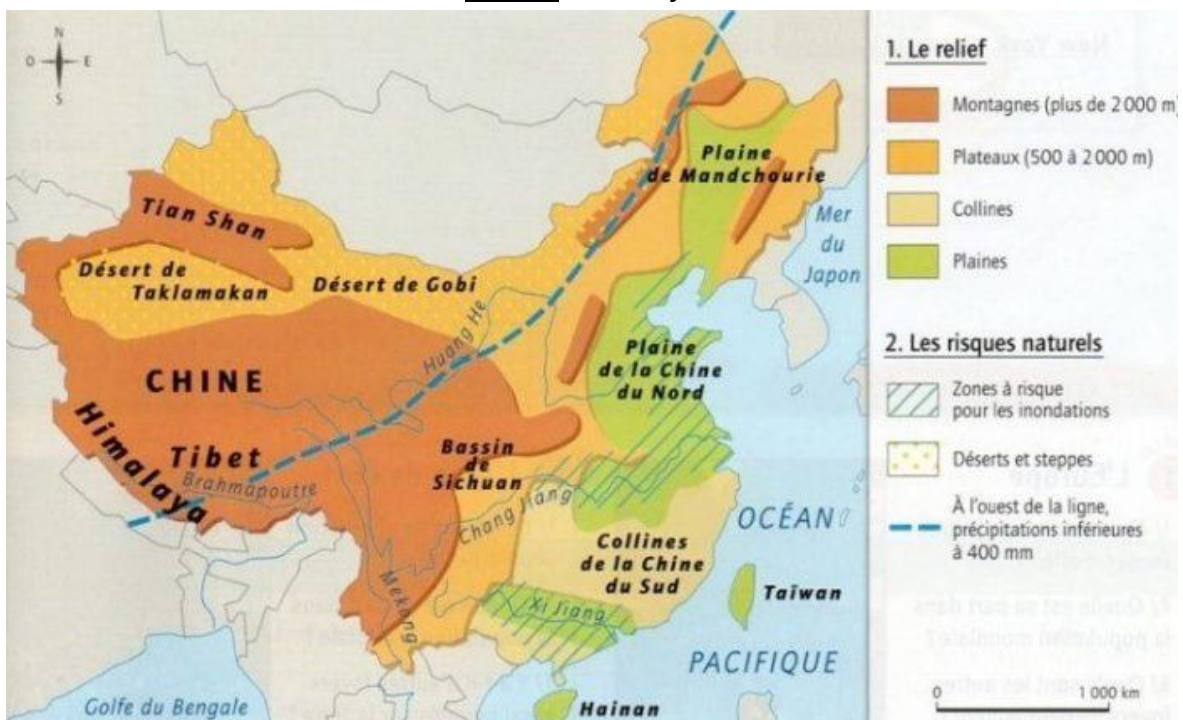
Exercice 3 : je me repère à l'échelle d'un pays

Réponds aux 2 questions grâce aux 2 cartes ci-dessous :

Carte 1 : La répartition de la population en Chine



Carte 2 : Le relief de la Chine



1- Carte 1 : Où vivent les chinois sur leur territoire ?

2- Carte 2 : Cite deux raisons expliquant cette répartition.

Exercice 4 : je me repère à l'échelle locale

Constantinople, capitale de l'Empire byzantin sous le règne de Justinien, VI^e siècle



1- Combien y a-t-il d'églises à Constantinople ?

2- Quelle est la distance entre le forum de Constantin et l'église Sainte-Sophie ?

- 50m
- 250m
- 500m
- 1km
- 1,5km