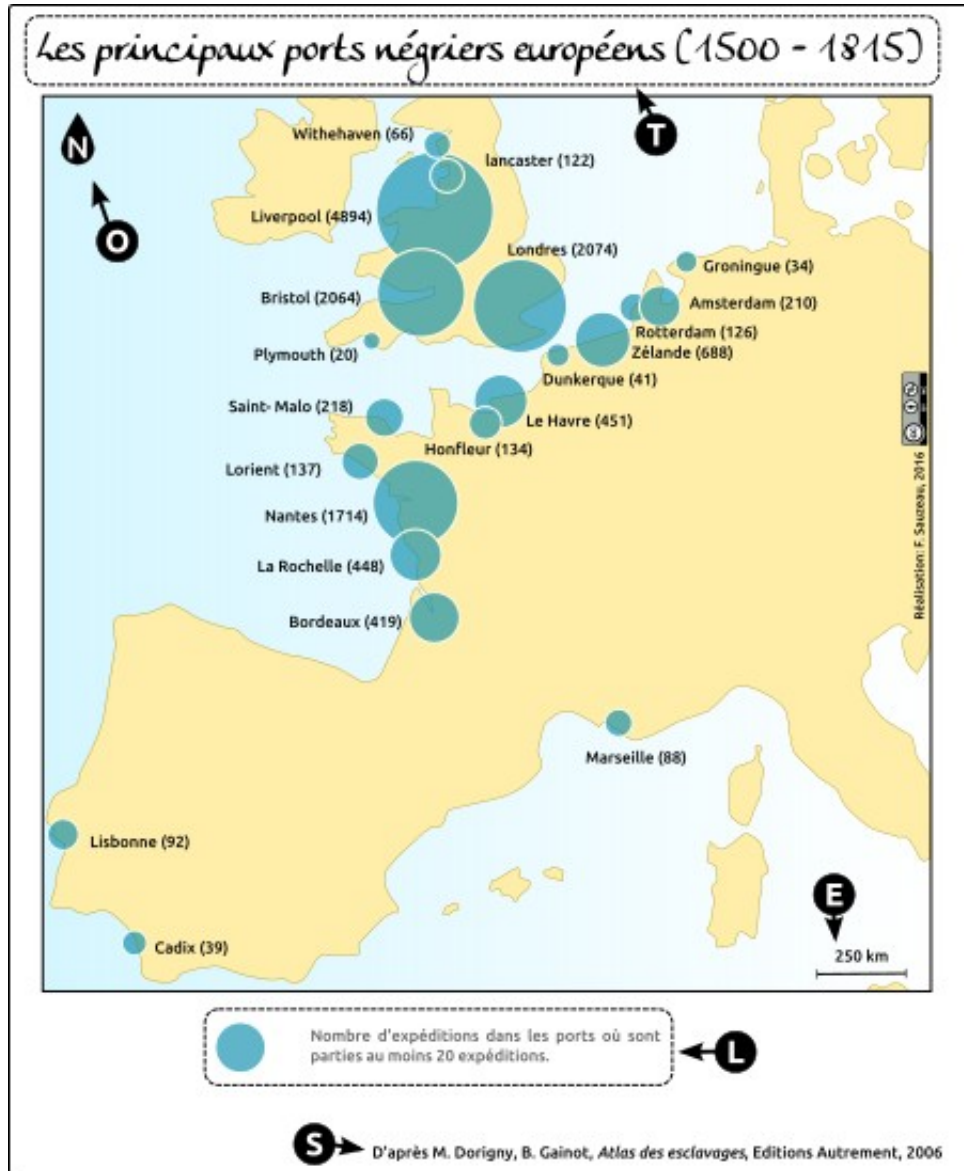


PRODUCTION CARTO-GRAPHIQUE - 4ème

Exercice 1 - Les éléments de la carte

Sur la carte ci-dessous, les lettres désignent les éléments que toute carte doit contenir.



credit image : www.hgsempai.fr/carto

A quoi correspond la lettre T?

A quoi correspond la lettre O?

NOM :

Prénom :

A quoi correspond la lettre L?



A quoi correspond la lettre E?



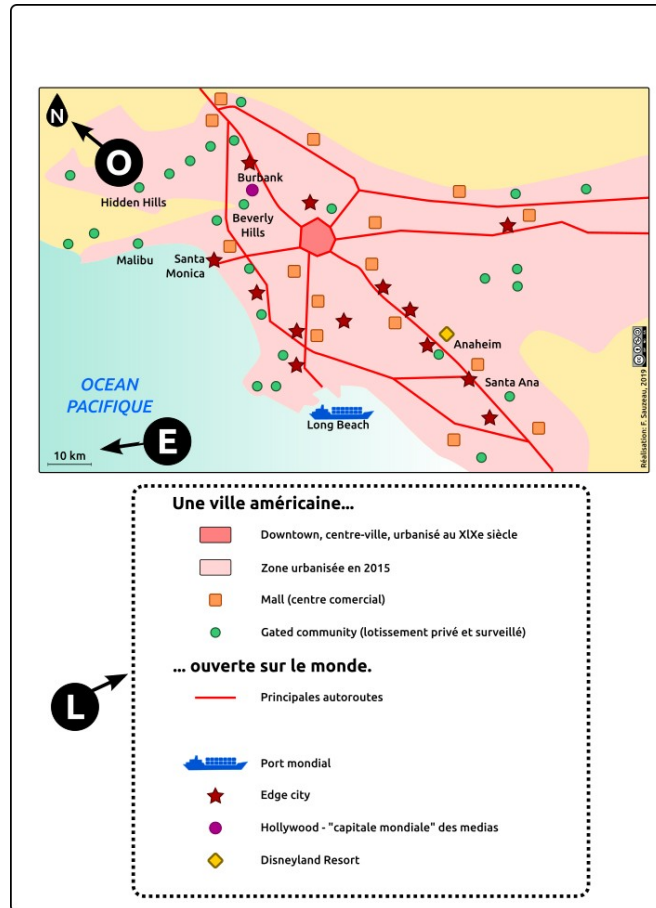
A quoi correspond la lettre S?



NOM :

Prénom :

Sur la carte ci-dessous, les lettres désignent les éléments que toute carte doit contenir.



credit image : www.hgsempai.fr/carto

A quoi correspond la lettre O?



A quoi correspond la lettre L?



A quoi correspond la lettre E?



Il manque un élément important pour que cette carte soit complète. De quoi s'agit-il?



Remédiez à cet oubli en proposant quelque chose (à l'écrit OU à l'oral).



NOM :

Prénom :

Exercice 2- Le langage cartographique

Sélectionnez le meilleur figuré à utiliser pour chaque information à localiser sur un croquis.

a- Je dois localiser une voie maritime sur un fond de carte. Je fais :

- un trait
- des hachures
- des pointillés
- une flèche à double sens

b- Je dois localiser un axe de transport sur un fond de carte. Je trace :

- un cercle
- une flèche à double sens
- un trait
- un flèche

c- Je dois localiser et nommer les métropoles sur un fond de carte. Je les écris en :

- bleu
- rouge
- vert
- noir

d- Je dois localiser les continents sur un fond de carte. Je les écris en :

- bleu
- rouge
- vert
- noir

NOM :

Prénom :

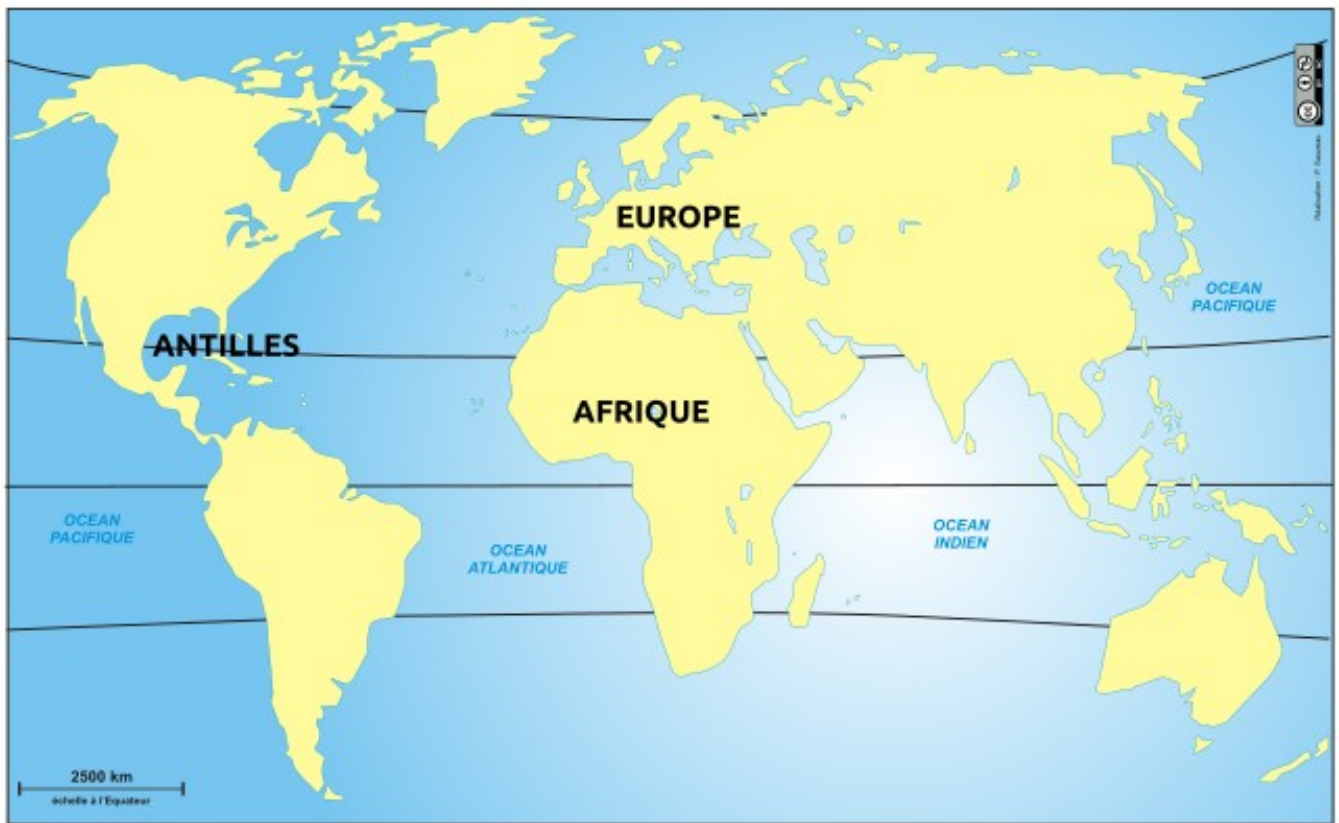
Lors du commerce triangulaire, les marchands partent d'Europe, avec leurs navires remplis d'alcool, d'armes et de produits de faible valeur ; ils les échangent contre des esclaves en Afrique. Ils vont ensuite aux Antilles pour vendre les esclaves, puis reviennent en Europe avec des produits tropicaux (sucre, etc.)

Représentez ce commerce triangulaire sur la carte suivante et construisez la légende au dessous de la carte.

NOM :

Prénom :

Le commerce triangulaire



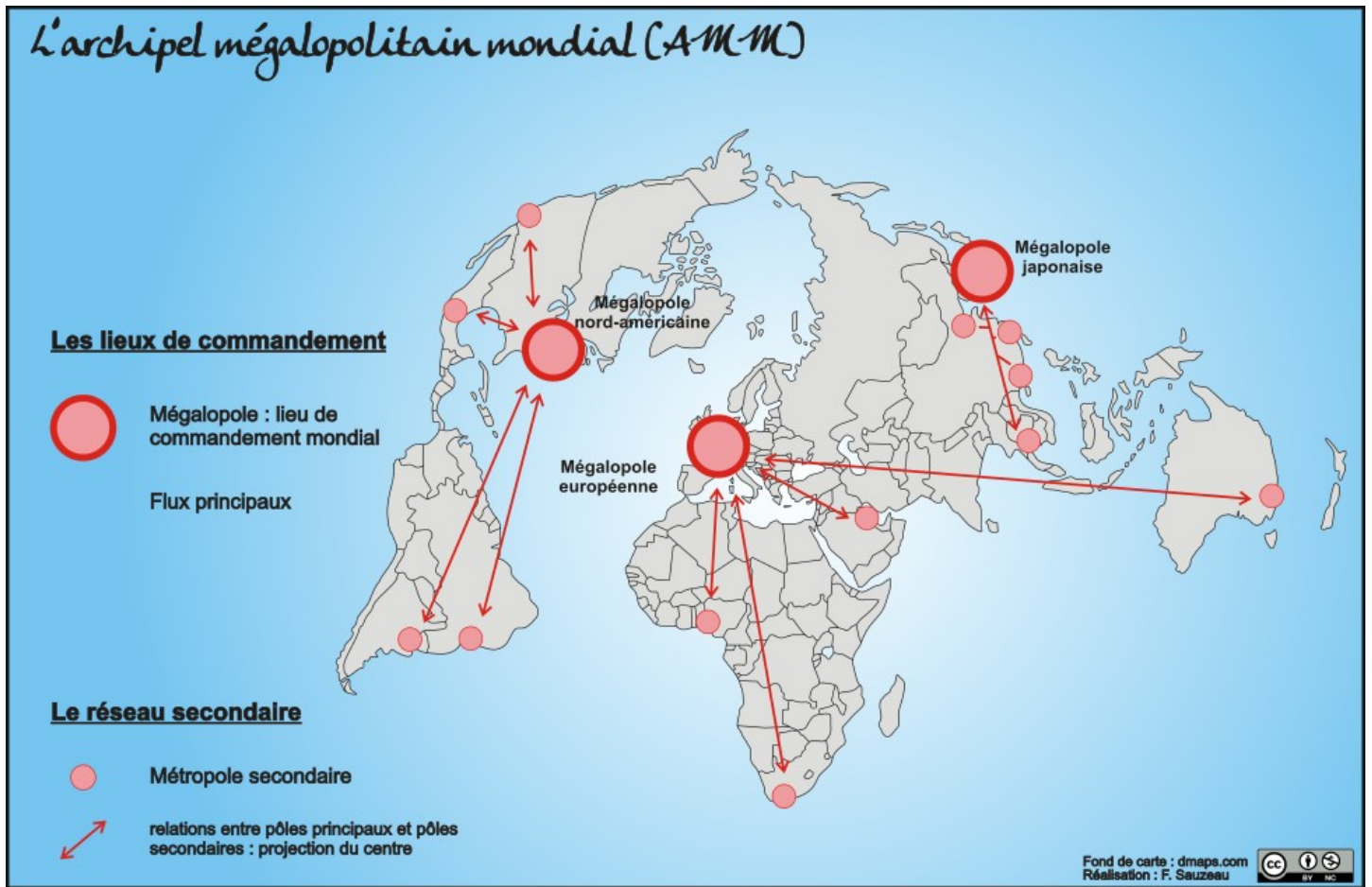
Justifiez votre choix de figuré.

A large, empty rectangular box with a thin black border, intended for the student to write their justification for the choice of the map. A small pencil icon is located in the top-left corner of the box.

NOM :

Prénom :

Sachant que les flux principaux sont constitués d'échanges entre les trois grandes mégalopoles, complétez le croquis suivant en dessinant les flux principaux et en complétant la légende.



Justifiez votre choix de figuré.